

- **CE2** : Je sais identifier des figures géométriques et les reproduire sur papier quadrillé.
- **CM1** : Je résous des problèmes de durée.

► Réponds à la question.

**Combien de temps s'est écoulé entre les deux horloges pendant l'après-midi ?**

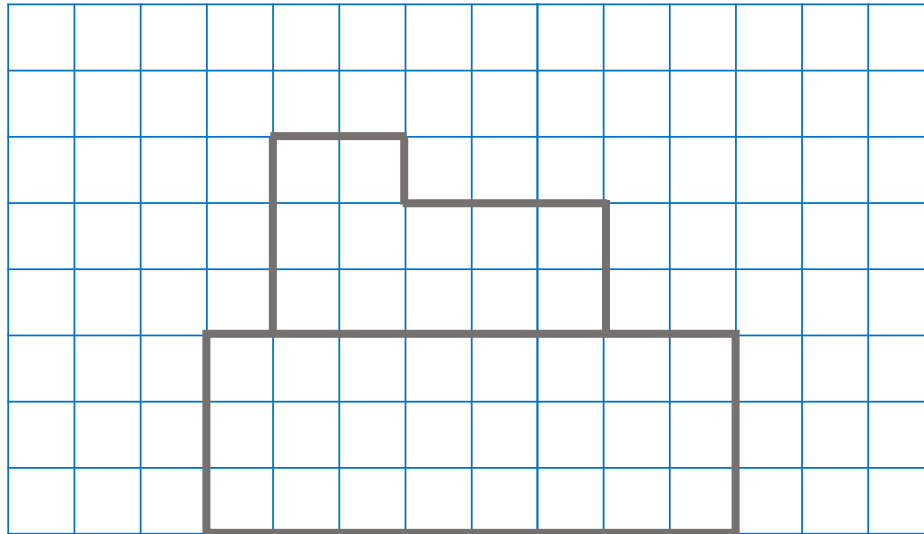
Horloge 1



Horloge 2

Observe attentivement puis reproduis dans ton cahier.

CE2



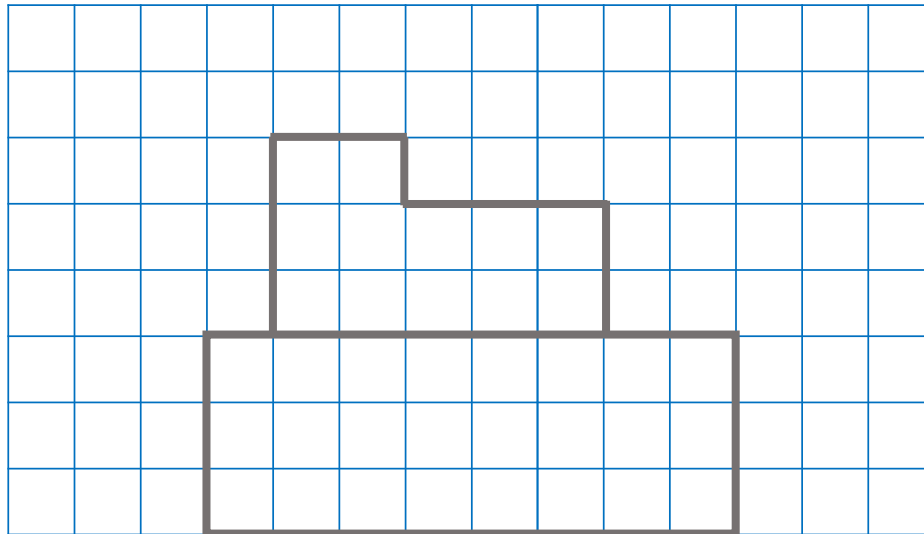
## ► Correction

Combien de temps s'est écoulé entre les deux horloges pendant l'après-midi ?



Observe attentivement puis reproduis dans ton cahier.

CE2



► Réponds à la question.

**Combien de temps s'est écoulé entre les deux horloges pendant l'après-midi ?**

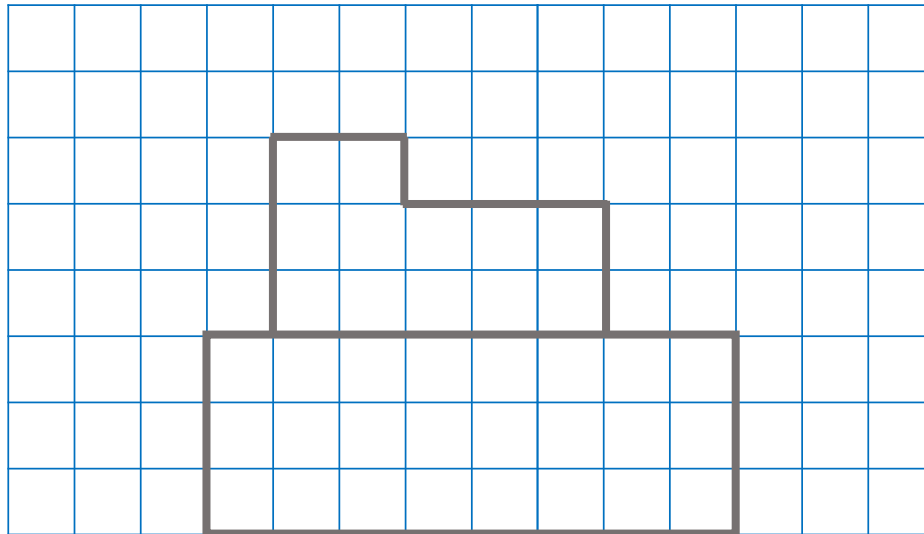
Horloge 1



Horloge 2

Observe attentivement puis reproduis dans ton cahier.

CE2



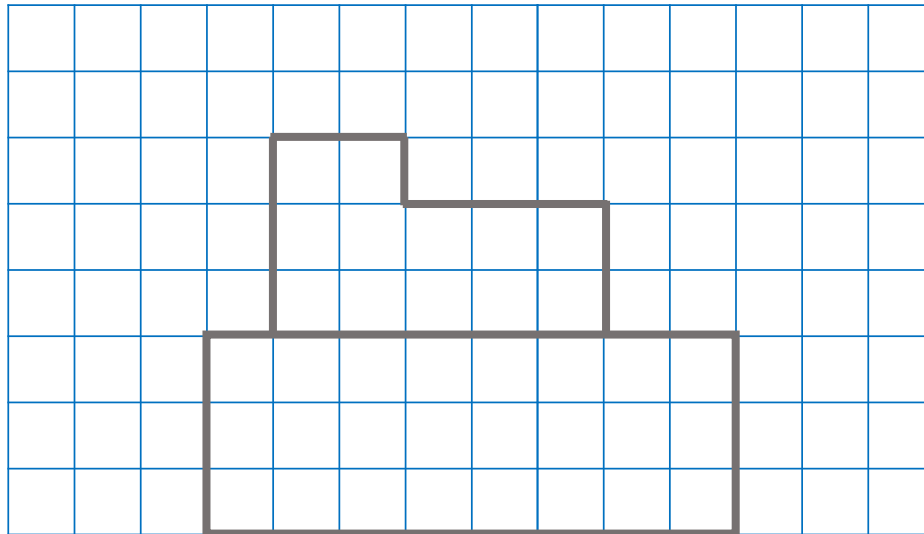
## ► Correction

Combien de temps s'est écoulé entre les deux horloges pendant l'après-midi ?



Observe attentivement puis reproduis dans ton cahier.

CE2



► Réponds à la question.

**Combien de temps s'est écoulé entre les deux horloges pendant l'après-midi ?**

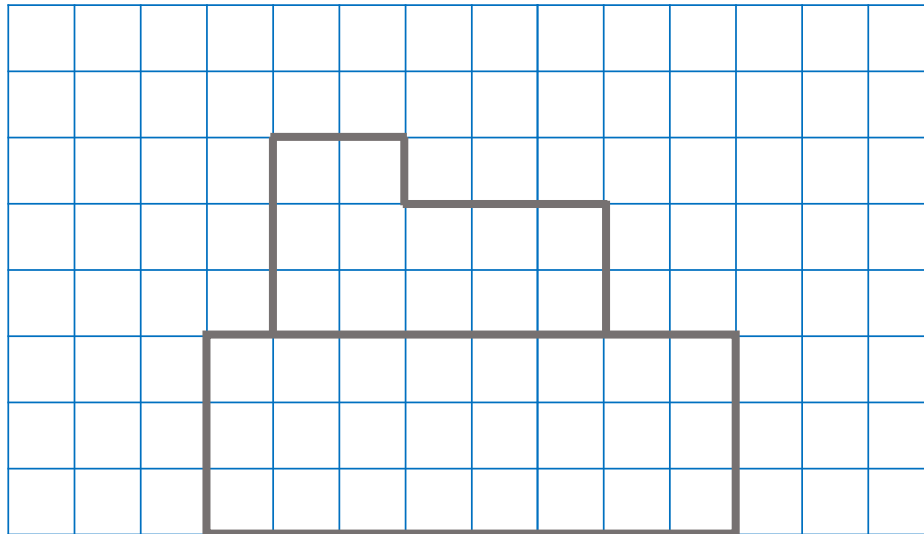
Horloge 1



Horloge 2

Observe attentivement puis reproduis dans ton cahier.

CE2



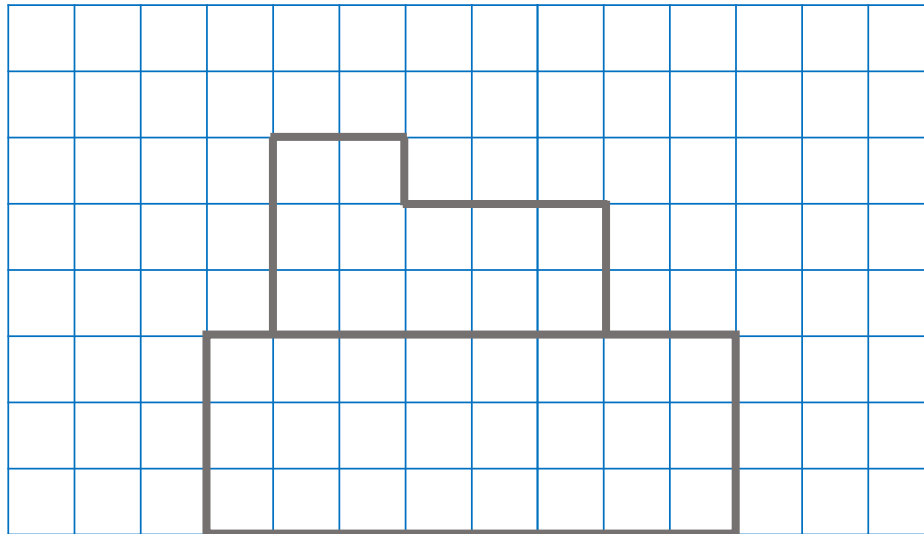
## ► Correction

Combien de temps s'est écoulé entre les deux horloges?



Observe attentivement puis reproduis dans ton cahier.

CE2



- Lis le problème et résous sur l'ardoise.

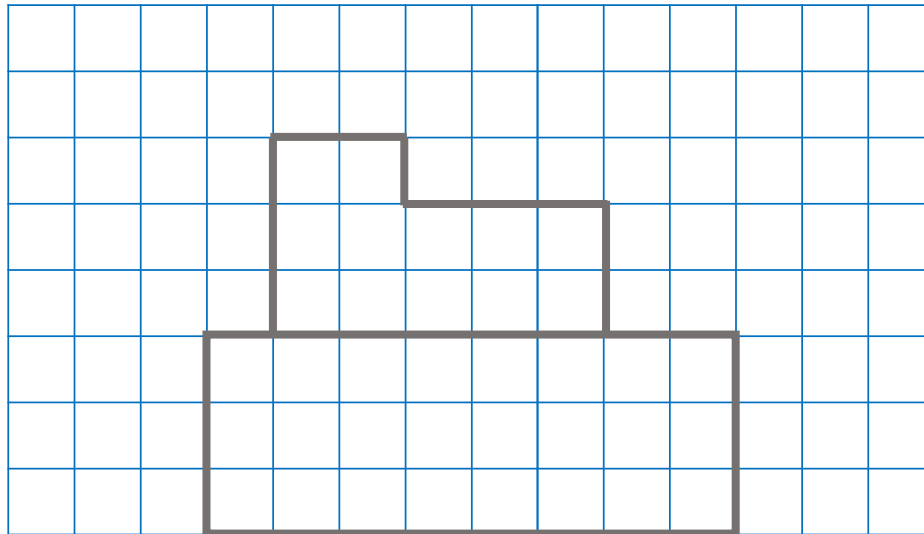
Je vais au cinéma.

Le film commence à 20h15 et finit à 23h15.

**Combien de temps a duré le film ?**

Observe attentivement puis reproduis dans ton cahier.

CE2





## ► Correction

Je vais au cinéma.

Le film commence à 20h15 et finit à 23h15. **Combien de temps a duré le film ?**

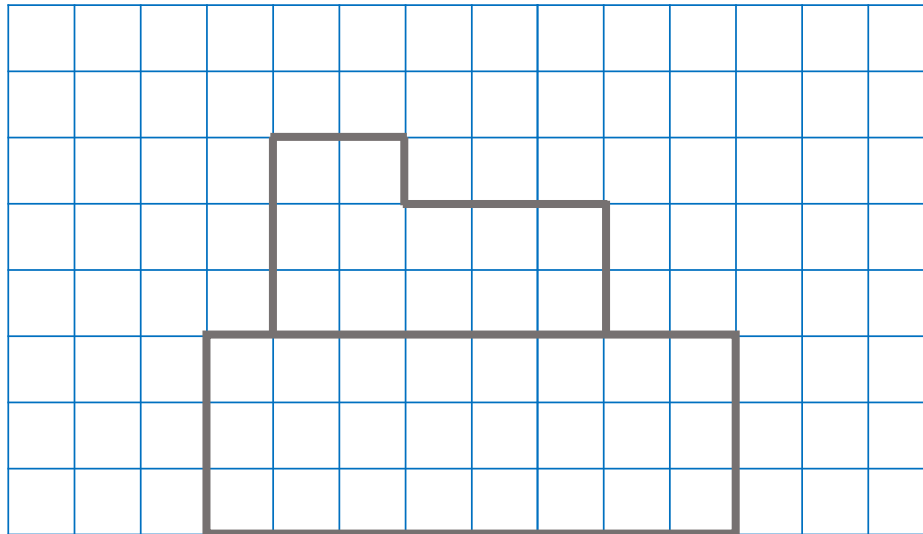
20 h 15 = > 23 h 15

Trois heures passent entre le début et la fin.

Le film a duré 3 heures.

Observe attentivement puis reproduis dans ton cahier.

CE2



- Lis le problème et résous sur l'ardoise.

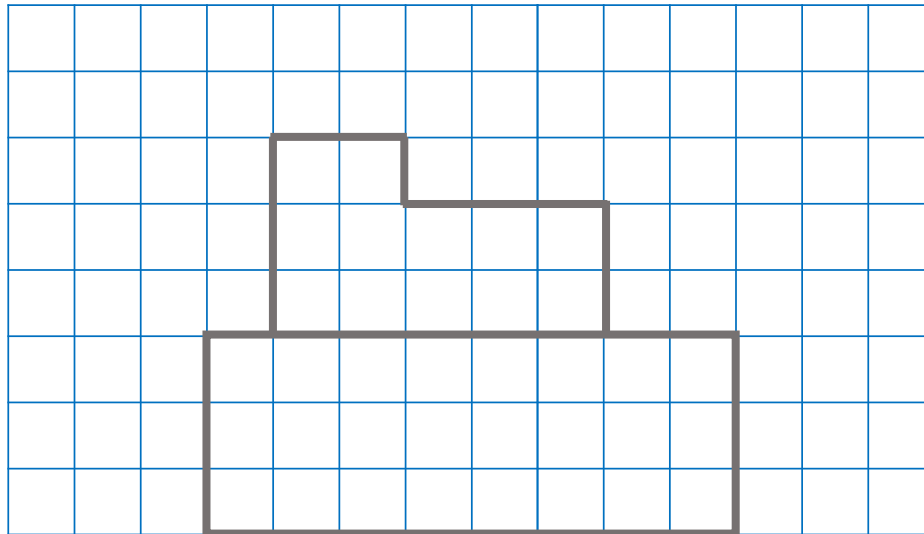
Je prends le train.

Il part à 13h30 et arrive à 15h10.

**Combien de temps a duré le voyage ?**

Observe attentivement puis reproduis dans ton cahier.

CE2



## ► Correction

Je prends le train.

Il part à 13h30 et arrive à 15h10.

**Combien de temps a duré le voyage ?**

13 h30  $\Rightarrow$  14h  $\Rightarrow$  15h  $\Rightarrow$  15h 10  
30 min + 1 h + 10 min

Total : 1 h 40.

Le voyage a duré 1h40.

Observe attentivement puis reproduis dans ton cahier.

CE2

